

**ГОСУДАРСТВЕННОЕ БЮДЖЕТНОЕ ПРОФЕССИОНАЛЬНОЕ  
ОБРАЗОВАТЕЛЬНОЕ УЧРЕЖДЕНИЕ ИРКУТСКОЙ ОБЛАСТИ  
«ЧЕРЕМХОВСКИЙ ГОРНОТЕХНИЧЕСКИЙ КОЛЛЕДЖ ИМ. М.И. ШАДОВА»**

**Утверждаю:**  
Директор ГБПОУ «ЧГТК  
им. М.И. Шадова»  
С.Н. Сычев  
21 июня 2023 г.

**КОМПЛЕКТ КОНТРОЛЬНО-ОЦЕНОЧНЫХ СРЕДСТВ**

**по учебной дисциплине**

***ОП.09 ТЕХНИЧЕСКАЯ МЕХАНИКА***

программы подготовки специалистов среднего звена

по специальности СПО

***23.02.01 Организация перевозок и управление***

***на транспорте (по видам)***

Черемхово, 2023г

Комплект контрольно-оценочных средств разработан ФГОС СПО по специальности **23.02.01 Организация перевозок и управление на транспорте (по видам)** программы учебной дисциплины **Техническая механика**

**Разработчик:**

ГБПОУ «ЧГТК им.  
М.И. Щадова»  
(место работы)

преподаватель  
специальных дисциплин  
(занимаемая должность)

Н.А. Пилипченко  
(инициалы, фамилия)

Одобрено на заседании цикловой комиссии:

«Горных дисциплин»

Протокол №10 от «06» июня 2023 г.

Председатель ЦК: Н.А. Жук

Одобрено Методическим советом колледжа

Протокол №5 от «07» июнь 2023 г.

Председатель МС: Власова Т.В.

## СОДЕРЖАНИЕ

		СТР.
1.	ПАСПОРТ КОМПЛЕКТА КОНТРОЛЬНО – ОЦЕНОЧНЫХ СРЕДСТВ	4
2.	РЕЗУЛЬТАТЫ ОСВОЕНИЯ УЧЕБНОЙ ДИСЦИПЛИНЫ	4
3.	ФОРМЫ И МЕТОДЫ ОЦЕНИВАНИЯ	5
4.	КОНТРОЛЬНО-ОЦЕНОЧНЫЕ СРЕДСТВА ДЛЯ ТЕКУЩЕГО КОНТРОЛЯ	5
5.	КОНТРОЛЬНО – ОЦЕНОЧНЫЕ СРЕДСТВА ДЛЯ КОНТРОЛЯ КАЧЕСТВА ЗНАНИЙ	6
6.	КОНТРОЛЬНО-ОЦЕНОЧНЫЕ СРЕДСТВА ДЛЯ ПРОМЕЖУТОЧНОЙ АТТЕСТАЦИИ	50

# 1. ПАСПОРТ КОМПЛЕКТА КОНТРОЛЬНО-ОЦЕНОЧНЫХ СРЕДСТВ

В результате освоения учебной дисциплины *Техническая механика* обучающийся должен обладать предусмотренными ФГОС СПО специальности 23.02.01 *Организация перевозок и управление на транспорте (по видам)* общими и профессиональными компетенциями:

ОК 01. Выбирать способы решения задач профессиональной деятельности применительно к различным контекстам;

ОК 02. Использовать современные средства поиска, анализа и интерпретации информации и информационные технологии для выполнения задач профессиональной деятельности;

ОК 03. Планировать и реализовывать собственное профессиональное и личностное развитие, предпринимательскую деятельность в профессиональной сфере, использовать знания по финансовой грамотности в различных жизненных ситуациях;

ОК 04. Эффективно взаимодействовать и работать в коллективе и команде;

ОК 05. Осуществлять устную и письменную коммуникацию на государственном языке Российской Федерации с учетом особенностей социального и культурного контекста;

ОК 06. Проявлять гражданско-патриотическую позицию, демонстрировать осознанное поведение на основе традиционных общечеловеческих ценностей, в том числе с учетом гармонизации межнациональных и межрелигиозных отношений, применять стандарты антикоррупционного поведения;

ОК 07. Содействовать сохранению окружающей среды, ресурсосбережению, применять знания об изменении климата, принципы бережливого производства, эффективно действовать в чрезвычайных ситуациях;

ОК 08. Использовать средства физической культуры для сохранения и укрепления здоровья в процессе профессиональной деятельности и поддержания необходимого уровня физической подготовленности;

ОК 09. Пользоваться профессиональной документацией на государственном и иностранном языках.";

ПК 2.2. Обеспечивать безопасность движения и решать профессиональные задачи посредством применения нормативно-правовых документов.

Учебным планом колледжа предусмотрена промежуточная аттестация по учебной дисциплине *Техническая механика* в форме дифференцированного зачета.

## 2. РЕЗУЛЬТАТЫ ОСВОЕНИЯ УЧЕБНОЙ ДИСЦИПЛИНЫ

В результате аттестации осуществляется комплексная проверка следующих умений и знаний, которые формируют общие и профессиональные компетенции:

**умения:**

-производить расчет на растяжение и сжатие на срез, смятие, кручение и изгиб;

-выбирать детали и узлы на основе анализа их свойств для конкретного применения;

**знания:**

- основные понятия и аксиомы теоретической механики, законы равновесия и перемещения тел;

- методики выполнения основных расчетов по теоретической механике, сопротивлению материалов и деталям машин;

-основы проектирования деталей и сборочных единиц;

-основы конструирования.

### 3. ФОРМЫ И МЕТОДЫ ОЦЕНИВАНИЯ

Контроль и оценка знаний, умений а также сформированность общих и профессиональных компетенций осуществляется с использованием следующих форм и методов: устный опрос, решение тестов, выполнение практических, индивидуальных заданий.

Оценка индивидуальных образовательных достижений по результатам текущего контроля и промежуточной аттестации производится в соответствии с универсальной шкалой (таблица).

Процент результативности (правильных ответов)	Качественная оценка индивидуальных образовательных достижений	
	балл (отметка)	вербальный аналог
90 ÷ 100	5	отлично
80 ÷ 89	4	хорошо
70 ÷ 79	3	удовлетворительно
менее 70	2	не удовлетворительно

По окончании изучения дисциплины проводится дифференцированный зачет.

### 4. КОНТРОЛЬНО – ОЦЕНОЧНЫЕ СРЕДСТВА ДЛЯ ТЕКУЩЕГО КОНТРОЛЯ ПУНКТ 4.

## 5. КОНТРОЛЬНО-ОЦЕНОЧНЫЕ СРЕДСТВА ДЛЯ ТЕКУЩЕГО КОНТРОЛЯ



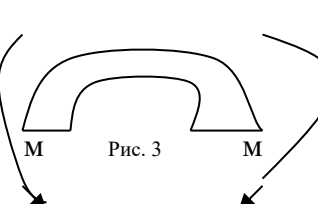
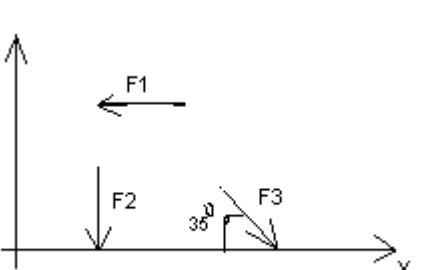
### Раздел 1. Теоретическая механика. Тема 1.1 Статика

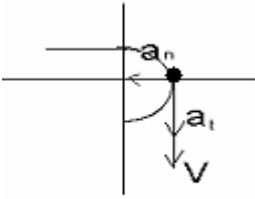
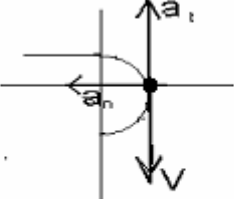
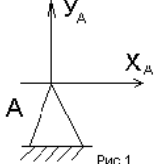
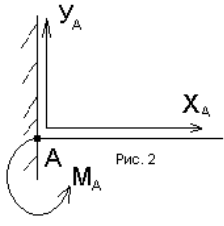
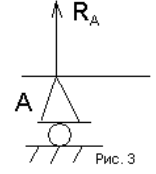
Устный опрос по вопросам:

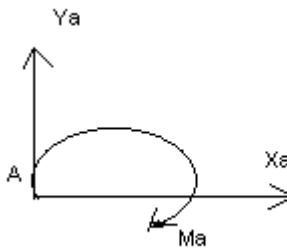
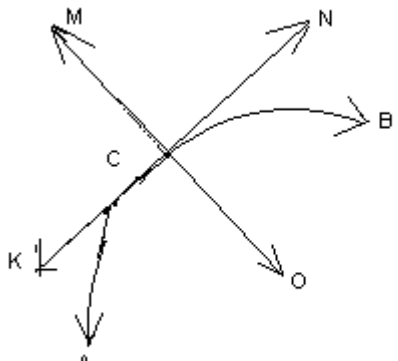
1. Дайте определение абсолютно твердого тела и материальной точки.
2. Что такое сила? Охарактеризуйте эту физическую величину и единицу ее измерения в системе СИ.
3. Перечислите и охарактеризуйте основные аксиомы статики.
4. Что такое "эквивалентная", "равнодействующая" и "уравновешивающая" система сил?

### Вариант- 1

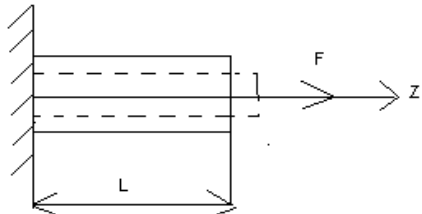
#### Блок А

№ п/п	Задание (вопрос)									
<p><i>Инструкция по выполнению заданий № 1-4: соотнесите содержание столбца 1 с содержанием столбца 2. Запишите в соответствующие строки бланка ответов букву из столбца 2, обозначающую правильный ответ на вопросы столбца 1. В результате выполнения Вы получите последовательность букв. Например,</i></p> <table border="1" style="margin-left: auto; margin-right: auto; border-collapse: collapse;"> <thead> <tr> <th style="width: 50%;">№ задания</th> <th style="width: 50%;">Вариант ответа</th> </tr> </thead> <tbody> <tr> <td style="text-align: center;">1</td> <td style="text-align: center;">1-А, 2- Б, 3-В.</td> </tr> </tbody> </table>				№ задания	Вариант ответа	1	1-А, 2- Б, 3-В.			
№ задания	Вариант ответа									
1	1-А, 2- Б, 3-В.									
<p>1. Установить соответствие между рисунками и определениями</p> <div style="display: flex; justify-content: space-around; align-items: center;"> <div style="text-align: center;">  <p>Рис. 1.</p> </div> <div style="text-align: center;">  <p>Рис. 2.</p> <p><math> F1  =  F2 </math></p> </div> <div style="text-align: center;">  <p>Рис. 3</p> </div> </div>	<table style="width: 100%; border-collapse: collapse;"> <thead> <tr> <th style="width: 50%;"><u>Рисунок.</u></th> <th style="width: 50%;"><u>Определение</u></th> </tr> </thead> <tbody> <tr> <td>1.Рис. 1</td> <td>А. Изгиб</td> </tr> <tr> <td>2.Рис. 2</td> <td>Б. Сжатие</td> </tr> <tr> <td>3.Рис. 3</td> <td>В. Растяжение Г. Кручение</td> </tr> </tbody> </table>	<u>Рисунок.</u>	<u>Определение</u>	1.Рис. 1	А. Изгиб	2.Рис. 2	Б. Сжатие	3.Рис. 3	В. Растяжение Г. Кручение	<p>1 – В 2 – Б 3 – А</p>
<u>Рисунок.</u>	<u>Определение</u>									
1.Рис. 1	А. Изгиб									
2.Рис. 2	Б. Сжатие									
3.Рис. 3	В. Растяжение Г. Кручение									
<p>2. Установить соответствие между рисунками и выражениями для расчета проекции силы на ось ОХ</p> <div style="text-align: center;">  </div>	<table style="width: 100%; border-collapse: collapse;"> <thead> <tr> <th style="width: 50%;"><u>Силы</u></th> <th style="width: 50%;"><u>Проекция сил</u></th> </tr> </thead> <tbody> <tr> <td>1. F1</td> <td>А. 0</td> </tr> <tr> <td>2. F2</td> <td>Б. -F</td> </tr> <tr> <td>3. F3</td> <td>В. <math>-F \sin 35^\circ</math> Г. <math>-F \cos 35^\circ</math></td> </tr> </tbody> </table>	<u>Силы</u>	<u>Проекция сил</u>	1. F1	А. 0	2. F2	Б. -F	3. F3	В. $-F \sin 35^\circ$ Г. $-F \cos 35^\circ$	<p>1 – Б 2 – А 3 – Г</p>
<u>Силы</u>	<u>Проекция сил</u>									
1. F1	А. 0									
2. F2	Б. -F									
3. F3	В. $-F \sin 35^\circ$ Г. $-F \cos 35^\circ$									

3.	<p>Установить соответствие между рисунками и видами движения точки.</p>  <p>Рис. 1</p>  <p>Рис. 2</p>	<p>Рис. 1.Рис.1 2.Рис.2 3.Рис.3</p> <p><u>Виды движения</u> А. Равномерное Б. Равноускоренное В. Равнозамедленное</p>	<p>1 – Б 2 – В</p>
4.	<p>Установите соответствие между рисунком и определением:</p>  <p>Рис.1</p>  <p>Рис.2</p>  <p>Рис.3</p>	<p>Рис.                    <u>Определение</u> 1. Рис.1            А. Жесткая заделка 2. Рис.2            Б. Неподвижная опора 3. Рис.3            В. Подвижная опора                           Г. Вид опоры не определен</p>	<p>1 – Б 2 – А 3 – В</p>
<p><b>Инструкция по выполнению заданий № 5 -23: выберите цифру, соответствующую правильному варианту ответа и запишите ее в бланк ответов.</b></p>			
5.	<p>Укажите, какое движение является простейшим.</p>	<p>1. Молекулярное 2. Механическое 3. Движение электронов 4. Отсутствие движения</p>	<p>2.</p>
6.	<p>Укажите, какое действие производят силы на реальные тела.</p>	<p>1. Силы, изменяющие форму и размеры реального тела 2. Силы, изменяющие движение реального тела 3. Силы, изменяющие характер движения и деформирующие реальные тела 4. Действие не наблюдаются</p>	<p>3.</p>
7.	<p>Укажите, признаки уравновешивающая силы?</p>	<p>1. Сила, производящая такое же действие как данная система сил 2. Сила, равная по величине равнодействующей и направленная в противоположную сторону 3. Признаков действий нет</p>	<p>2.</p>
8.	<p>Укажите, к чему приложена реакция опоры</p>	<p>1. К самой опоре 2. К опирающему телу 3. Реакция отсутствует</p>	<p>2.</p>
9.	<p>Укажите, какую систему образуют две силы,</p>	<p>1. Плоскую систему сил</p>	

	линии, действия которых перекрещиваются.	2. Пространственную систему сил 3. Сходящуюся систему сил 4. Система отсутствует	3.
10.	Укажите, чем можно уравновесить пару сил?	1. Одной силой 2. Парой сил 3. Одной силой и одной парой	2.
11.	Укажите, что надо знать чтобы определить эффект действия пары сил?	1. Величину силы и плечо пары 2. Произведение величины силы на плечо 3. Величину момента пары и направление 4. Плечо пары	3.
12.	Укажите опору, которой соответствует составляющие реакций опоры балки 	1. Шарнирно-неподвижная 2. Шарнирно-подвижная 3. Жесткая заделка	3.
13.	Нормальная работа зубчатого механизма была нарушена из-за возникновения слишком больших упругих перемещений валов. Почему нарушилась нормальная работа передачи	1. Из-за недостаточной прочности 2. Из-за недостаточной жесткости валов 3. Из-за недостаточной устойчивости валов	1.
14.	Укажите вид изгиба, если в поперечном сечении балки возникли изгибающий момент и поперечная сила	1. Чистый изгиб 2. Поперечный изгиб	2.
15.	Точка движется из А в В по траектории, указанной на рисунке. Укажите направление скорости точки? 	1. Скорость направлена по СК 2. Скорость направлена по СМ 3. Скорость направлена по СN 4. Скорость направлена по СО	3.
16.	Укажите, в каком случае материал считается однородным?	1. Свойства материалов не зависят от размеров 2. Материал заполняет весь	



		<p>объем</p> <p>3. Физико-механические свойства материала одинаковы во всех направлениях.</p> <p>4. Температура материала одинакова во всем объеме</p>	3.
17.	Укажите, как называют способность конструкции сопротивляться упругим деформациям?	<p>1. Прочность</p> <p>2. Жесткость</p> <p>3. Устойчивость</p> <p>4. Выносливость</p>	3.
18.	<p>Укажите, какую деформацию получил брус, если после снятия нагрузки форма бруса восстановилась до исходного состояния?</p> 	<p>1. Незначительную</p> <p>2. Пластическую</p> <p>3. Остаточную</p> <p>4. Упругую</p>	4.
19.	Укажите точную запись условия прочности при растяжении и сжатии?	<p>1. <math>\sigma = N/A = [\sigma]</math></p> <p>2. <math>\sigma = N/A \leq [\sigma]</math></p> <p>3. <math>\sigma = N/A \geq [\sigma]</math></p> <p>4. <math>\sigma = N/A &gt; [\sigma]</math></p>	2.
20.	Укажите, какие механические напряжения в поперечном сечении бруса при нагружении называют «нормальными»	<p>1. Возникающие при нормальной работе</p> <p>2. Направленные перпендикулярно площадке</p> <p>3. Направленные параллельно площадке</p> <p>4. Лежащие в площади сечения</p>	2.
21.	Укажите, что можно сказать о плоской системе сил, если при приведении ее к некоторому центру главный вектор и главный вектор и главный момент оказались равными нулю?	<p>1. Система не уравновешена</p> <p>2. Система заменена равнодействующей</p> <p>3. Система заменена главным вектором</p> <p>4. Система уравновешена</p>	4.
22.	Укажите, как называется и обозначается напряжение, при котором деформации растут при постоянной нагрузке?	<p>1. Предел прочности, <math>\sigma_B</math></p> <p>2. Предел текучести, <math>\sigma_T</math></p>	2.

		3. Допускаемое напряжение, $[\sigma]$ 4. Предел пропорциональности, $\sigma_{пл}$	
23.	Указать по какому из уравнений, пользуясь методом сечений, можно определить продольную силу в сечении?	1. $Q_x = \sum F_{kx}$ 2. $Q_y = \sum F_{ky}$ 3. $N = \sum F_{kz}$ 4. $M_k = \sum M_z(F_k)$	3.

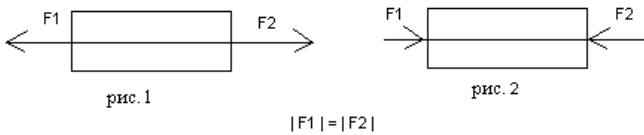
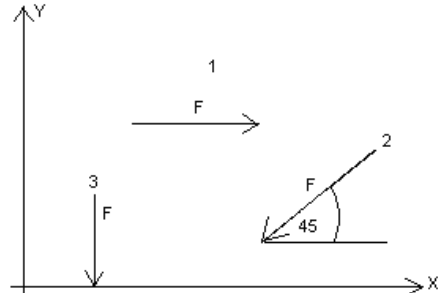
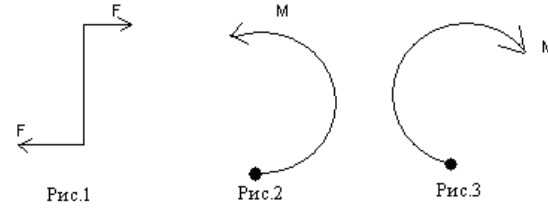
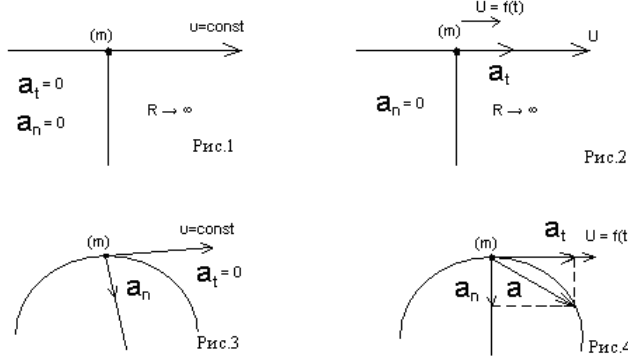
**Блок Б**

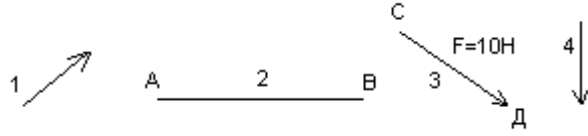
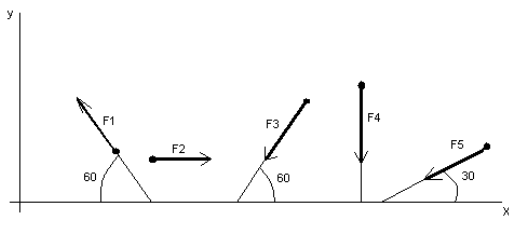
№ п/п	Задание (вопрос)	
<b>Инструкция по выполнению заданий № 24-30: В соответствующую строку бланка ответов запишите ответ на вопрос, окончание предложения или пропущенные слова.</b>		
24.	Допишите предложение: Плечо пары – кратчайшее ..., взятое по перпендикуляру к линиям действия сил.	1. Расстояния
25.	Допишите предложение: Условие равновесия системы пар моментов состоит в том, что алгебраическая сумма моментов пар равняется ... .	1. Нулю
26.	Допишите предложение: Напряжение характеризует ... и направление внутренних сил, приходящихся на единицу площади в данной точке сечения тела.	1. Величину
27.	Допишите предложение: Растяжение или сжатие – это такой вид деформации стержня, при котором в его поперечны сечениях возникает один внутренний силовой фактор- ... сила.	1. Продольная
28.	Допишите предложение: При вращательном движении твердого тела вокруг неподвижной оси траектория всех точек, не лежащих на оси вращения, представляют собой ... .	1. Окружность
29.	Допишите предложение: Работа пары сил равна произведению ... на угол поворота, выраженный в радианах.	1. Момент
30.	Допишите предложение: Мощность при вращательном движении тела равна произведению вращающего момента на ....	1. Угловую скорость

**Вариант- 2**

**Блок А**

№ п/п	Задание (вопрос)	
<b>Инструкция по выполнению заданий № 1-4: соотнесите содержание столбца 1 с содержанием столбца 2. Запишите в соответствующие строки бланка ответов букву из столбца 2, обозначающую правильный ответ на вопросы столбца 1. В результате выполнения Вы получите последовательность букв. Например,</b>		
	№ задания	Вариант ответа
	1	1-А, 2- Б, 3-В.

1.	<p>Установите соответствие между рисунками и определениями:</p>  <p>рис. 1                      рис. 2</p> <p><math> F1  =  F2 </math></p>	<p><u>Рисунки</u>   <u>Определения</u></p> <p>1. Рис.1    А. Изгиб</p> <p>2. Рис.2    Б. Сжатие</p> <p>              В. Растяжение</p>	1 – В 2 – Б
2.	<p>Установите соответствие между рисунками и выражениями для расчета проекции силы на ось ОУ</p> 	<p><u>Силы</u>            <u>Проекции</u></p> <p>1. <math>F_1</math>            А. 0</p> <p>2. <math>F_2</math>            Б. <math>-F</math></p> <p>3. <math>F_3</math>            В. <math>-F \sin 45^\circ</math></p> <p>                      Г. <math>F \cos 45^\circ</math></p>	1 – А 2 – В 3 – Б
3.	<p>Установите соответствие между рисунками и направлениями моментов пар</p>  <p>Рис.1                      Рис.2                      Рис.3</p>	<p><u>Рисунки</u></p> <p>1. Рис.1</p> <p>2. Рис.2</p> <p>3. Рис.3</p> <p><u>Направление</u></p> <p>А – Положительное направление</p> <p>Б – Отрицательное направление</p> <p>В – Нет вариантов</p>	1 – А 2 – Б 3 – А
4.	<p>Установите соответствие между рисунками и определениями:</p>  <p>Рис.1                      Рис.2                      Рис.3                      Рис.4</p>	<p><u>Рисунки</u></p> <p>1. Рис.1</p> <p>2. Рис.2</p> <p>3. Рис.3</p> <p>4. Рис.4</p> <p><u>Направление</u></p> <p>А – Неравномерное криволинейное движение</p> <p>Б – Равномерное движение</p> <p>В – Равномерное Криволинейное движение</p> <p>Г – Неравномерное движение</p> <p>Д – Верный ответ не приведен</p>	1 – Б 2 – Г 3 – В 4 – А
<p><b>Инструкция по выполнению заданий № 5 -23: выберите цифру, соответствующую правильному варианту ответа и запишите ее в бланк ответов.</b></p>			
5.	<p>Укажите, какую характеристику движения поездов можно определить на карте железнодорожных линий?</p>	<p>1. Траекторию движения</p> <p>2. Расстояние между поездами</p> <p>3. Путь, пройденный</p>	1

		поездом 4. Характеристику движения нельзя определить	
6.	Укажите, в каком случае не учитывают деформации тел.	1. При исследовании равновесия. 2. При расчете на прочность 3. При расчете на жесткость 4. При расчете выносливости	1
7.	Укажите, какое изображение вектора содержит все элементы, характеризующие силу: 	1. Рис 1 2. Рис 2 3. Рис 3 4. Рис 4	3
8.	Укажите, как взаимно расположена равнодействующая и уравновешенная силы?	1. Они направлены в одну сторону 2. Они направлены по одной прямой в противоположные стороны 3. Их взаимное расположение может быть произвольным 4. Они пересекаются в одной точке	2
9.	Укажите, почему силы действия и противодействия не могут взаимно уравновешиваться?	1. Эти силы не равны по модулю 2. Они не направлены по одной прямой 3. Они не направлены в противоположные стороны 4. Они принадлежат разным телам	4
10.	Выбрать выражение для расчета проекции силы F5 на ось Oх 	1. $-F5 \cos 30^\circ$ 2. $F5 \cos 60^\circ$ 3. $-F5 \cos 60^\circ$ 4. $F5 \sin 120^\circ$	1
11.	Тело находится в равновесии $m_1 = 15\text{Нм}$ ; $m_2 = 8\text{Нм}$ ; $m_3 = 12\text{Нм}$ ; $m_4 = ?$ Определить величину момента пары $m_4$	1. $14\text{Нм}$ 2. $19\text{Нм}$ 3. $11\text{Нм}$ 4. $15\text{Нм}$	2

12.	<p>Произвольная плоская система сил приведена к главному вектору <math>F\Sigma</math> и главному моменту <math>M\Sigma</math>. Чему равна величина равнодействующей? <math>F\Sigma = 105 \text{ кН}</math> <math>M\Sigma = 125 \text{ кНм}</math></p>	<p>1. 25 кН 2. 105 кН 3. 125 кН 4. 230 кН</p>	2
13.	<p>Чем отличается главный вектор системы от равнодействующей той же системы сил?</p>	<p>1. Величиной 2. Направлением 3. Величиной и направлением 4. Точкой приложения</p>	4
14.	<p>Сколько неизвестных величин можно найти, используя уравнения равновесия пространственной системы сходящихся сил?</p>	<p>1. 6 2. 2 3. 3 4. 4</p>	2
15.	<p>что произойдет с координатами <math>X_c</math> и <math>Y_c</math>, если увеличить величину основания треугольника до 90 мм?</p>	<p>1. <math>X_c</math> и <math>Y_c</math> не изменятся 2. Изменится только <math>X_c</math> 3. Изменится только <math>Y_c</math> 4. Изменится и <math>X_c</math>, и <math>Y_c</math></p>	2
16.	<p>Точка движется по линии ABC и в момент <math>t</math> занимает положение B. Определите вид движения точки</p> <p><math>a_t = \text{const}</math></p>	<p>1. Равномерное 2. Равноускоренное 3. Равнозамедленное 4. Неравномерное</p>	3
17.	<p>По какому из уравнений, пользуясь методом сечений, можно определить продольную силу</p>	<p>1. <math>Q_X = \sum F_{KX}</math></p>	

	в сечении?	2. $Q_y = \sum F_{Ky}$ 3. $N = \sum F_{Kz}$ 4. $M_K = \sum M_Z(F_K)$	3
18.	Укажите, какой знак имеет площадь отверстий в формуле для определения центра тяжести	1. Знак минус 2. Знак плюс 3. Ни тот не другой	1
19.	Укажите, какая деформация возникла в теле если после снятия нагрузки размеры и форма тела полностью восстановились?	1. Упругая деформация 2. Пластическая деформация 3. Деформация не возникала	1
20.	Укажите, почему произошло искривление спицы под действием сжимающей силы?	1. Из-за недостаточной прочности 2. Из-за недостаточной жесткости 3. Из-за недостаточной устойчивости. 4. Из-за недостаточной выносливости	3
21.	Укажите, как изменится вращающий момент М, если при одной и той же мощности уменьшит угловую скорость вращения вала.	1. Вращающий момент уменьшится 2. Вращающий момент увеличится 3. Вращающий момент равен нулю 4. Нет разницы	2
22.	Укажите, какая составляющая ускорения любой точки твердого тела равна нулю при равномерном вращении твердого тела вокруг неподвижной оси.	1. Нормальное ускорение 2. Касательное ускорение 3. Полное ускорение 4. Ускорение равно нулю	2
23.	Как называется способность конструкции сопротивляться упругим деформациям?	1. Прочность 2. Жесткость 3. Устойчивость 4. Износостойкость	2

**Блок Б**

№ п/п	Задание (вопрос)	
<b>Инструкция по выполнению заданий № 24-30: В соответствующую строку бланка ответов запишите ответ на вопрос, окончание предложения или пропущенные слова.</b>		
24.	Допишите предложение: Парой сил называют две параллельные силы равные по ..... и направленные в противоположные стороны.	1. Модулю
25.	Допишите предложение: Тело длина которого значительно больше размеров поперечного сечения принято называть брусом или .....	1. Стержнем
26.	Допишите предложение: Условие прочности состоит в том, что рабочие (расчетные) напряжения не должны превышать .....	Допускаемого напряжения
27.	Допишите предложение:	

	Кручение - это вид деформации, при котором в поперечных сечениях бруса возникает один внутренний силовой фактор .....	Крутящий момент
28.	Допишите предложение: При чистом изгибе в поперечных сечениях балки возникает один внутренний силовой фактор - .....	Изгибающий момент
29.	Допишите предложение: Сила инерции точки равна по величине произведению массы точки на ее ускорение и направленно в сторону, противоположную .....	1. Ускорению
30.	Допишите предложение: Работа силы на прямолинейном перемещении равна произведению ..... на величину перемещения и на косинус угла между направлением силы и направлением перемещения.	1. Модуля силы

#### **Критерии оценивания**

<b>Оценка в пятибалльной шкале</b>	<b>Критерии оценки</b>	<b>Количество правильно данных вопросов</b>
«2»	Выполнено менее 70% задания	Даны верные ответы менее, чем на 21 вопрос
«3»	Выполнено 70-79% задания	Даны верные ответы на 21 - 24 вопроса
«4»	Выполнено 80-89% задания	Даны верные ответы на 25 - 27 вопросов
«5»	Выполнено более 90% задания	Даны верные ответы на 28 вопросов и более

### **Плоская система сходящихся сил**

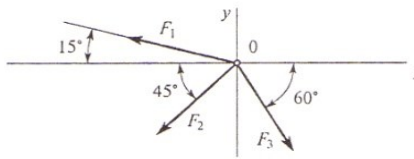
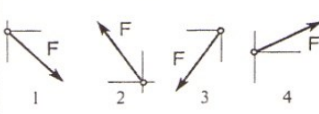
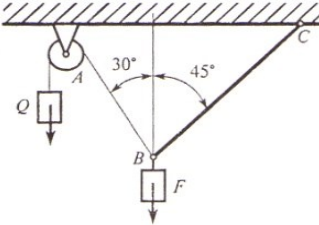
#### Тестовое задание

**ТЕХНИЧЕСКАЯ МЕХАНИКА. ТЕОРЕТИЧЕСКАЯ МЕХАНИКА**  
**СТАТИКА**

Плоская система сходящихся сил

Темы 1.1; 1.2

Вариант 1

Вопросы	Ответы	Код
1. Определить проекцию равнодействующей системы сил на ось $x$ .	-24,8 кН	1
 <p><math>F_2 = 50 \text{ кН}; F_3 = 20 \text{ кН}; F_1 = 10 \text{ кН}</math></p>	-12,48 кН	2
	-35 кН	3
	Верный ответ не приведен	4
	16 Н	1
2. Система сходящихся сил уравновешена. Определить величину $F_{4y}$ , если известно: $\sum F_{kx} = 0$ $F_{1y} = 16 \text{ Н}; F_{2y} = -46 \text{ Н}; F_{3y} = 20 \text{ Н}.$	10 Н	2
	-8 Н	3
	6 Н	4
	Как направлен вектор равнодействующей силы, если известно, что $F_x = 15 \text{ Н}; F_y = -20 \text{ Н}.$	
3. Как направлен вектор равнодействующей силы, если известно, что $F_x = 15 \text{ Н}; F_y = -20 \text{ Н}.$	2	2
	3	3
	4	4
	4. Груз находится в равновесии. Указать, какой из силовых треугольников для шарнира $B$ построен верно.	
2		2
3		3
4		4
5. Груз $F$ находится в равновесии. Указать, какая система уравнений для шарнира $B$ верна.	$\sum F_{kx} = R_3 - R_1 \cos 60^\circ = 0$ $\sum F_{ky} = R_2 - R_1 \cos 30^\circ = 0$	1
	$\sum F_{kx} = R_3 - R_1 \cos 30^\circ = 0$ $\sum F_{ky} = R_2 - R_1 \cos 60^\circ = 0$	2
	$\sum F_{kx} = -R_3 + R_2 \cos 30^\circ = 0$ $\sum F_{ky} = R_2 - R_1 \cos 60^\circ = 0$	3
	Верный ответ не приведен	4

**Пара сил. Момент силы относительно точки**

Тестовое задание

**1. Что называется силой?**

- а) Давление одного тела на другое.
- б) Мера воздействия одного тела на другое.
- в) Величина взаимодействия между телами.
- г) Мера взаимосвязи между телами (объектами).

**2. Назовите единицу измерения силы?**

- а) Паскаль.
- б) Ньютон.
- в) Герц.



г) Джоуль.

**3. Чем нельзя определить действие силы на тело?**

- а) числовым значением (модулем);
- б) направлением;
- в) точкой приложения;
- г) геометрическим размером;

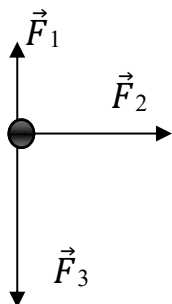
**4. Какой прибор служит для статистического измерения силы?**

- а) амперметр;
- б) гироскоп;
- в) динамометр;
- г) силомер;

**5. Какая система сил называется уравновешенной?**

- а) Две силы, направленные по одной прямой в разные стороны.
- б) Две силы, направленные под углом  $90^\circ$  друг к другу.
- в) Несколько сил, сумма которых равна нулю.
- г) Система сил, под действием которых свободное тело может находиться в покое.

**6. Чему равна равнодействующая трёх приложенных к телу сил, если  $F_1=F_2=F_3=10\text{кН}$ ? Куда она направлена?**



- а) 30 кН, вправо.
- б) 30 кН, влево
- в) 10 кН, вправо.
- г) 20 кН, вниз.

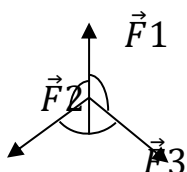
**7. Какого способа не существует при сложении сил, действующих на тело?**

- а) геометрического;
- б) графического;
- в) тензорного;
- г) аналитического;

**8. Две силы  $F_1=30\text{Н}$  и  $F_2=40\text{Н}$  приложены к телу под углом  $90^\circ$  друг другу. Чему равна их равнодействующая?**

- а) 70Н.
- б) 10Н.
- в) 50Н.
- г) 1200Н.

**9. Чему равна равнодействующая трёх сил, если  $F_1=F_2=F_3=10\text{кН}$ ?**



- а) 0 кН.
- б) 10 кН.
- в) 20 кН.
- г) 30 кН.

**10. Что называется моментом силы относительно точки (центра)?**

- а) Произведение модуля этой силы на время её действия.
- б) Отношение силы, действующей на тело, к промежутку времени, в течение которого эта сила действует.
- в) Произведение силы на квадрат расстояния до точки (центра).
- г) Произведение силы на кратчайшее расстояние до этой точки (центра).

**11. Когда момент силы считается положительным?**

- а) Когда под действием силы тело движется вперёд.
- б) Когда под действием силы тело вращается по ходу часовой стрелки.
- в) Когда под действием силы тело движется назад.
- г) Когда под действием силы тело вращается против хода часовой стрелки.

**12. Что называется парой сил?**

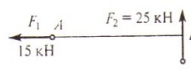
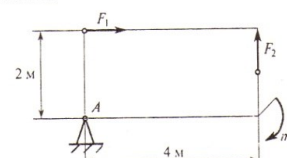
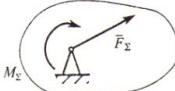
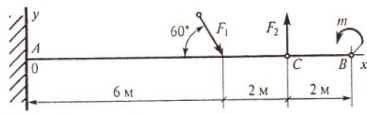
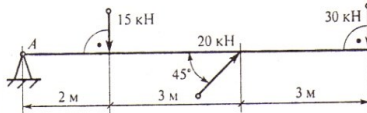
- а) Две силы, результат действия которых равен нулю.
- б) Любые две силы, лежащих на параллельных прямых.
- в) Две силы, лежащие на одной прямой, равные между собой, но противоположные по направлению.
- г) Две силы, лежащие на параллельных прямых, равные по модулю, но противоположные по направлению.

**Плоская система произвольно расположенных сил**

Тестовое задание

**ТЕХНИЧЕСКАЯ МЕХАНИКА. ТЕОРЕТИЧЕСКАЯ МЕХАНИКА  
СТАТИКА**

Произвольная плоская система сил 1 (сосредоточенная нагрузка)    Тема 1.4    Вариант 1

Вопросы	Ответы	Кол
1. Найти момент присоединенной пары при переносе силы $F_2$ в точку А.  $AB = 3 \text{ м}$	25 кН · м	1
	45 кН · м	2
	175 кН · м	3
	75 кН · м	4
2. Определить величину главного момента при приведении системы сил к точке А. $F_1 = 36 \text{ кН}$ ; $F_2 = 18 \text{ кН}$ ; $m = 45 \text{ кН} \cdot \text{м}$ . 	45 кН · м	1
	72 кН · м	2
	81 кН · м	3
	117 кН · м	4
3. Произвольная плоская система сил приведена к главному вектору $F_{\Sigma}$ и главному моменту $M_{\Sigma}$ . Чему равна величина равнодействующей? $F_{\Sigma} = 105 \text{ кН}$ ; $M_{\Sigma} = 125 \text{ кН} \cdot \text{м}$ . 	25 кН	1
	105 кН	2
	125 кН	3
	230 кН	4
4. Выбрать наиболее подходящую систему уравнений равновесия для определения реакций в опорах изображенной балки. 	$\sum F_{kx} = 0; \sum F_{ky} = 0; \sum M_B = 0$	1
	$\sum F_{kx} = 0; \sum F_{ky} = 0; \sum M_A = 0$	2
	$\sum F_{kx} = 0; \sum M_A = 0; \sum M_B = 0$	3
	$\sum M_A = 0; \sum F_{ky} = 0; \sum M_C = 0$	4
5. Рассчитать сумму моментов сил относительно точки А. 	70 кН · м	1
	340 кН · м	2
	240 кН · м	3
	200 кН · м	4

## Центр тяжести

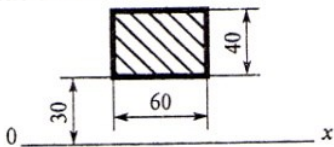
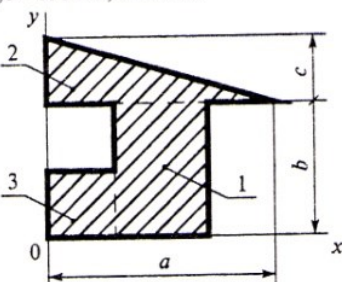
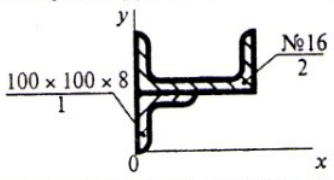
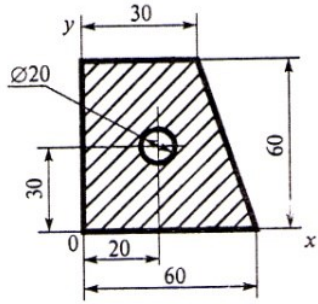
### Тестовое задание

**ТЕХНИЧЕСКАЯ МЕХАНИКА. ТЕОРЕТИЧЕСКАЯ МЕХАНИКА**  
**СТАТИКА**

Центр тяжести тела

Тема 1.6

Вариант 1

Вопросы	Ответы	Код
1. Выбрать формулы для расчета координат центра тяжести однородного тела, составленного из объемных частей.	$x_C = \frac{\sum G_k x_k}{\sum G_k}; y_C = \frac{\sum G_k y_k}{\sum G_k}$	1
	$x_C = \frac{\sum l_k x_k}{\sum l_k}; y_C = \frac{\sum l_k y_k}{\sum l_k}$	2
	$x_C = \frac{\sum A_k x_k}{\sum A_k}; y_C = \frac{\sum A_k y_k}{\sum A_k}$	3
	$x_C = \frac{\sum V_k x_k}{\sum V_k}; y_C = \frac{\sum V_k y_k}{\sum V_k}$	4
2. Вычислить статический момент данной плоской фигуры относительно оси 0x. 	$36 \cdot 10^3 \text{ мм}^3$	1
	$72 \cdot 10^3 \text{ мм}^3$	2
	$120 \cdot 10^3 \text{ мм}^3$	3
	$60 \cdot 10^3 \text{ мм}^3$	4
3. Определить координату центра тяжести фигуры 2 относительно оси 0x. $a = 270 \text{ мм}; b = 150 \text{ мм}; c = 90 \text{ мм}$ 	150 мм	1
	180 мм	2
	160 мм	3
	30 мм	4
4. Определить координату $y_C$ центра тяжести фигуры 1. 	2,75 см	1
	7,25 см	2
	5 см	3
	4,25 см	4
5. Вычислить координату $x_C$ центра тяжести составного сечения. 	23,8	1
	28	2
	18,8	3
	12,5	4

## Тема 1.2. Кинематика.

### Основные понятия кинематики

#### Тестовое задание

#### 1. Что изучает кинематика?

- а) Движение тела под действием приложенных к нему сил.
- б) Виды равновесия тела.
- в) Движение тела без учета действующих на него сил.
- г) Способы взаимодействия тел между собой.

#### 2. Что из ниже перечисленного не входит в систему отсчёта?

- а) Способ измерения времени.
- б) Пространство.
- в) Тело отсчёта.
- г) Система координат, связанная с телом отсчёта.

#### 3. Какого способа не существует для задания движения точки (тела)?

- а) Векторного.
- б) естественного.
- в) Тензорного.
- г) Координатного.

#### 4. Движение тела описывается уравнением $x = 12 + 6,2t - 0,75t^2$ .

Определите скорость тела через 2с после начала движения.

- а) 21,4 м/с
- б) 3,2 м/с
- в) 12 м/с
- г) 6,2 м/с

#### 5. Движение тела описывается уравнением $X = 3 - 12t + 7t$ . Не делая вычислений, назовите начальную координату тела и его начальную скорость.

- а) 12м; 7м/с
- б) 3м; 7м/с
- в) 7м; 3м/с
- г) 3м; -12м/с

#### 6. Чему равно ускорение точек на ободе колеса диаметром 40см, движущегося со скоростью 36 км/ч?

- а) 250 м/с<sup>2</sup>
- б) 1440 м/с<sup>2</sup>
- в) 500 м/с<sup>2</sup>
- г) 4 м/с<sup>2</sup>

#### 7. Определите полное ускорение тела, для которого $a_n = 4\text{м/с}^2$ , $a_\tau = 3\text{м/с}^2$

- а) 7 м/с<sup>2</sup>
- б) 1 м/с<sup>2</sup>
- в) 5м/с<sup>2</sup>
- г) 25м/с<sup>2</sup>

#### 8. Тело вращается согласно уравнению: $\varphi = 50 + 0,1t + 0,02t^2$ . Не делая вычислений, определите угловую скорость вращения $\omega$ и угловое ускорение $\varepsilon$ этого тела.

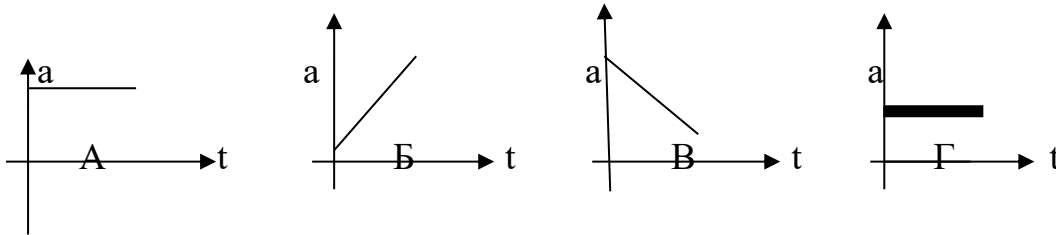
а) 50 рад/с; 0,1 рад/с<sup>2</sup>

б) 0,1 рад/с; 0,02 рад/с

в) 50 рад/с; 0,02 рад/с<sup>2</sup>

г) 0,1 рад/с; 0,04 рад/с<sup>2</sup>

**9. На рисунке изображены графики зависимости ускорения от времени для разных движений. Какой из них соответствует равномерному движению?**



а) график А

б) график Б

в) график В

г) график Г

**10. По дорогам, пересекающимся под прямым углом, едут велосипедист и автомобилист. Скорости велосипедиста и автомобилиста относительно дороги соответственно равны 8 м/с и 15 м/с. Чему равен модуль скорости автомобилиста относительно велосипедиста?**

а) 1 м/с

б) 3 м/с

в) 9 м/с

г) 17 м/с

**Кинематика точки**

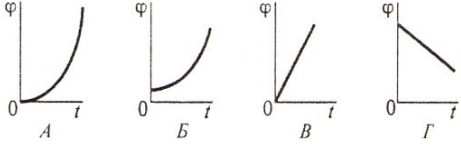
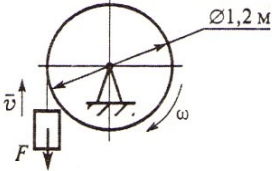
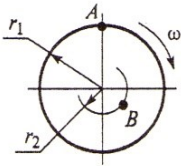
Тестовое задание

**ТЕХНИЧЕСКАЯ МЕХАНИКА. ТЕОРЕТИЧЕСКАЯ МЕХАНИКА**  
**КИНЕМАТИКА**

Простейшие движения твердого тела

Тема 1.9

Вариант 1

Вопросы	Ответы	Код
1. Закон вращательного движения тела $\varphi = 1,2t^2 + 2,4t$ . Определить, за какое время угловая скорость тела достигнет величины $\omega = 19,2$ рад/с.	2,4 с	1
	14 с	2
	7 с	3
	12,4 с	4
2. Выбрать соответствующий кинематический график движения, если закон движения $\varphi = 1,3t^2 + t$ . 	A	1
	B	2
	B	3
	Г	4
3. Для движения, закон которого задан в вопросе 2, определить угловое ускорение в момент $t = 10$ с.	1,3 рад/с <sup>2</sup>	1
	2,6 рад/с <sup>2</sup>	2
	26 рад/с <sup>2</sup>	3
	130 рад/с <sup>2</sup>	4
4. Груз $F$ начинает двигаться вверх из состояния покоя с постоянным ускорением $a = 1,26$ м/с <sup>2</sup> . Определить частоту вращения колеса через 5 с после начала движения. 	$n = 10,5$ об/мин	1
	$n = 62,5$ об/мин	2
	$n = 100$ об/мин	3
	$n = 597$ об/мин	4
5. Известно, что скорость точки $A$ $v_A = 12$ м/с. Определить скорость точки $B$ . $r_1 = 2$ м; $r_2 = 1,4$ м. 	2,4 м/с	1
	6 м/с	2
	8,4 м/с	3
	12 м/с	4

**Простейшие движения твердого тела**

Тестовое задание

**1. В вагоне поезда, скорость которого равна 1 мс, навстречу движению идет пассажир со скоростью 1,5 м/с. Чему равна по модулю скорость пассажира для людей, стоящих на платформе?**

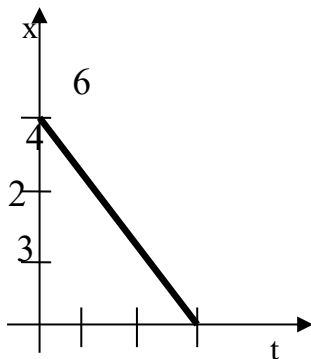
а) 0,5 м/с

б) 2,5 м/с

в) 0 м/с

г) 1,5 м/с

2. На рисунке показан график зависимости координаты автомобиля от времени. Какова скорость автомобиля?



а) -2 м/с

б) -0,5 м/с

в) 0,5 м/с

г) 2 м/с

3. Моторная лодка развивает скорость 4 м/с. За какое минимальное время лодка может пересечь реку шириной 200 м при скорости течения реки 3 м/с.

а) 50 с

б) 200 с

в) 40 с

г) 0,02 с

4. Тело совершает движение, уравнение которого  $x = 10 \cdot \sin(20t + 5)$ . В соответствии с этой формулой циклическая частота равна:

а) 5 рад/с

б) 10 рад/с

в) 20 рад/с

г) 25 рад/с

5. Движение тела описывается уравнением  $x = 12 + 6,2t + 0,75t^2$ .

Определите скорость и ускорение тела через 2с после начала движения.

а) 6,2 м/с; 0,75 м/с<sup>2</sup>

б) 9,2 м/с; 1,5 м/с<sup>2</sup>

в) 0,75 м/с; 6,2 м/с<sup>2</sup>

г) 0,15 м/с; 12 м/с<sup>2</sup>

6. Автомобиль, движущийся равномерно и прямолинейно со скоростью 60 км/ч, увеличивает в течение 20 с скорость до 90 км/ч. Определите какое ускорение получит автомобиль и какое расстояние он проедет за это время, считая движение равноускоренным?

а) 0,415 м/с<sup>2</sup>; 417 м

б) 45 м/с<sup>2</sup>; 180 м

в) 15 м/с<sup>2</sup>; 120 км

г) 0,045 м/с<sup>2</sup>; 30 км

7. Движение точки по прямолинейной траектории описывается уравнением  $s = 0,2t^3 - t^2 + 0,6t$ . Определите скорость и ускорение точки в начале движения.

а) 0,2 м/с; 0,6 м/с<sup>2</sup>

б) 0,6 м/с; -1 м/с<sup>2</sup>

в) 0,6 м/с; -2 м/с<sup>2</sup>

г) 0,2 м/с; -0,6 м/с<sup>2</sup>

Основные понятия и аксиомы динамики.



Тестовое задание

**1. Товарный вагон, движущийся с небольшой скоростью, сталкивается с другим вагоном и останавливается. Какие преобразования энергии происходят в данном процессе?**

- а) Кинетическая энергия вагона преобразуется в потенциальную энергию пружины.
- б) Кинетическая энергия вагона преобразуется в его потенциальную энергию.
- в) Потенциальная энергия пружины преобразуется в её кинетическую энергию.
- г) Внутренняя энергия пружины преобразуется в кинетическую энергию вагона.

**2. Равнодействующая всех сил, действующих на автомобиль «Волга» массой 1400 кг, равна 2800 Н. Чему равно изменение скорости автомобиля за 10 сек?**

- а) 0
- б) 2 м/с
- в) 0,2 м/с
- г) 20 м/с

**3. Масса тела 2г, а скорость его движения 50 м/с. Какова энергия движения этого тела?**

- а) 2,5 Дж
- б) 25 Дж
- в) 50 Дж
- г) 100 Дж

**4. Молоток массой 0,8 кг ударяет по гвоздю и забивает его в доску. Скорость молотка в момент удара 5м/с, продолжительность удара равна 0,2 с.**

**Средняя сила удара равна:**

- а) 40 Н
- б) 20 Н
- в) 80 Н
- г) 8 Н

**5. Автомобиль движется со скоростью 40 м/с. Коэффициент трения резины об асфальт равен 0,4. Наименьший радиус поворота автомобиля равен:**

- а) 10 м
- б) 160 м
- в) 400 м
- г) 40 м

**6. Тело массой 5 кг движется по горизонтальной прямой. Сила трения равна 6 Н. Чему равен коэффициент трения?**

- а) 8,3
- б) 1,2
- в) 0,83
- г) 0,12

**7. Парашютист опускается равномерно со скоростью 4 м/с. Масса парашютиста с парашютом равна 150 кг. Сила трения парашютиста о воздух равна:**

- а) 6000 Н
- б) 2400 Н
- в) 1500 Н
- г) 375 Н

**8. Два тела массами  $m_1=0,1$  кг и  $m_2=0,2$  кг летят навстречу друг другу со скоростями  $v_1 = 20$  м/с и  $v_2 = 10$  м/с . Столкнувшись, они слипаются. На сколько изменилась внутренняя энергия тел при столкновении?**

- а) на 19 Дж  
в) на 30 Дж  
б) на 20 Дж  
г) на 40 Дж

**9. Мальчик массой 40 кг стоит в лифте. Лифт опускается с ускорением 1 м/с<sup>2</sup> . Чему равен вес мальчика?**

- а) 400 Н  
в) 440 Н  
б) 360 Н  
г) 320 Н

**10. Проводя опыт, вы роняете стальной шарик на массивную стальную плиту. Ударившись о плиту, шарик подскакивает вверх. По какому признаку, не используя приборов, вы можете определить, что удар шарика о плиту не является абсолютно упругим?**

- а) Абсолютно упругих ударов в природе не бывает.  
б) На плите останется вмятина.  
в) При ударе шарик деформируется.  
г) Высота подскока шарика меньше высоты, с которой он упал.

**11. С яблони, высотой 5 м, упало яблоко. Масса яблока 0,6 кг. Кинетическая энергия яблока в момент касания поверхности Земли приблизительно равна:**

- а) 30 Дж  
в) 8,3 Дж  
б) 15 Дж  
г) 0,12 Дж

**12. Пружину жесткостью 30 Н/м растянули на 0,04 м. Потенциальная энергия растянутой пружины:**

- а) 750 Дж  
в) 0,6 Дж  
б) 1,2 Дж  
г) 0,024 Дж

**13. Навстречу друг другу летят шарики из пластилина. Модули их импульсов соответственно равны  $5 \cdot 10^{-2}$  кг · м/с и  $3 \cdot 10^{-2}$  кг · м/с . Столкнувшись шарики слипаются. Чему равен импульс слипшихся шариков?**

- а)  $8 \cdot 10^{-2}$  кг · м/с  
в)  $2 \cdot 10^{-2}$  кг · м/с  
б)  $4 \cdot 10^{-2}$  кг · м/с  
г)  $1 \cdot 10^{-2}$  кг · м/с

**14. Гвоздь длиной 10 см забивают в деревянный брус одним ударом молотка. В момент удара кинетическая энергия молотка равна 3 Дж. Определите среднюю силу трения гвоздя о дерево бруса?**

- а) 300 Н  
в) 0,3 Н
- б) 30 Н  
г) 0,03 Н

**15. Упавший и отскочивший от поверхности Земли мяч подпрыгивает на меньшую высоту, чем та, с которой он упал. Чем это объясняется?**

- а) Гравитационным притяжением мяча к Земле.  
б) Переходом при ударе кинетической энергии мяча в потенциальную.  
в) Переходом при ударе потенциальной энергии мяча в кинетическую.  
г) Переходом при ударе части механической энергии мяча в тепловую.

**16. Тело массой 10 кг поднимают вверх по наклонной плоскости силой 1,4 Н. Угол наклона  $45^\circ$ . Чему равен коэффициент трения?**

- а) 0,2  
в) 2
- б) 0,02  
г) 0,14

**17. Какая сила действует на тело массой 10 кг, если это тело движется согласно уравнению:  $x=4t^2-12t+6$ .**

- а) 90 Н  
в) 70 Н
- б) 80 Н  
г) 60 Н

**18. Какой мощности электродвигатель необходимо поставить на лебедку, чтобы она могла поставить груз массой 1,2 т на высоту 20 м за 30 с?**

- а) 8 кВт  
в) 3,6 кВт
- б) 72 кВт  
г) 720 кВт

**19. Какая формула отражает основной закон динамики вращательного движения?**

- а)  $F = m \cdot a$   
в)  $\omega = \varphi'(t)$
- б)  $\nu = x'(t)$   
г)  $T = \mathcal{T} \cdot \mathcal{E}$

**20. Ракета массой 5 т поднимается на высоту 10 км за 20 с. Чему равна сила тяги двигателя ракеты?**

- а)  $2,5 \cdot 10^5$  Н  
в)  $4,5 \cdot 10^5$  Н
- б)  $3 \cdot 10^5$  Н  
г)  $5,5 \cdot 10^5$  Н

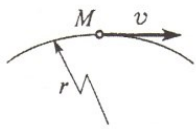
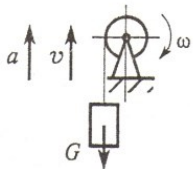
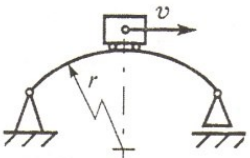
**Движение материальной точки. Метод кинестатики**  
Тестовое задание

**ТЕХНИЧЕСКАЯ МЕХАНИКА. ТЕОРЕТИЧЕСКАЯ МЕХАНИКА**  
**ДИНАМИКА**

Движение материальной точки. Метод кинестатики

Тема 1.13

Вариант 1

Вопросы	Ответы	Код
1. К двум материальным точкам $m_1 = 2$ кг и $m_2 = 8$ кг приложены одинаковые силы. Сравнить величины ускорений, с которыми будут двигаться эти точки.	$a_1 = \frac{1}{2}a_2$	1
	$a_1 = a_2$	2
	$a_1 = 2a_2$	3
	$a_1 = 4a_2$	4
2. Свободная материальная точка, масса которой равна 8 кг, движется прямолинейно согласно уравнению $S = 2,5t^2$ . Определить действующую на нее силу.	$F = 16$ Н	1
	$F = 20$ Н	2
	$F = 40$ Н	3
	$F = 80$ Н	4
3. Точка $M$ движется криволинейно и неравномерно. Выбрать формулу для расчета нормальной составляющей силы инерции. 	$ma$	1
	$m\epsilon r$	2
	$m\frac{v^2}{r}$	3
	$m\sqrt{(\epsilon r)^2 + (v^2/r)^2}$	4
4. Определить силу натяжения троса барабанной лебедки, перемещающего вверх груз массой 100 кг с ускорением $a = 4$ м/с <sup>2</sup> . 	400 Н	1
	981 Н	2
	1381 Н	3
	1621 Н	4
5. Чему равна сила давления автомобиля на мост при скорости $v = 20$ м/с, когда он находится на середине моста, если вес автомобиля $G = 35$ кН, а радиус кривизны моста $r = 800$ м? 	27,25 кН	1
	33,22 кН	2
	35 кН	3
	36,75 кН	4

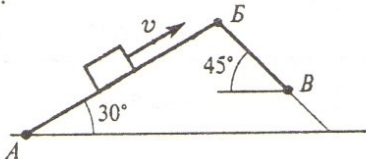
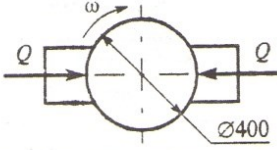
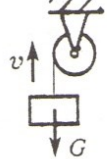
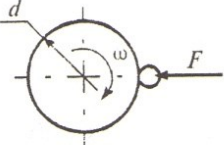
# Трение. Работа и мощность

## Тестовое задание

### ТЕХНИЧЕСКАЯ МЕХАНИКА. ТЕОРЕТИЧЕСКАЯ МЕХАНИКА ДИНАМИКА

Трение. Работа и мощность

Тема 1.14 Вариант 1

Вопросы	Ответы	Код
<p>1. Определить работу силы тяжести при перемещении груза из положения <math>A</math> в положение <math>B</math> по наклонной плоскости <math>ABB</math>. Трением пренебречь.</p> <p><math>AB = 2</math> м;  <math>BB = 1</math> м;  <math>G = 100</math> Н.</p> 	30 Дж	1
	-30 Дж	2
	100 Дж	3
	-130 Дж	4
<p>2. Определить работу торможения за один оборот колеса, если коэффициент трения между тормозными колодками и колесом <math>f = 0,1</math>. Сила прижатия колодок <math>Q = 100</math> Н.</p> 	-6,2 Дж	1
	-12,6 Дж	2
	25 Дж	3
	-18,4 Дж	4
<p>3. Определить полезную мощность мотора лебедки при подъеме груза <math>G = 1</math> кН на высоту 10 м за 5 с.</p> 	1 кВт	1
	1,5 кВт	2
	2 кВт	3
	2,5 кВт	4
<p>4. Точильный камень <math>d = 0,4</math> м делает <math>n = 120</math> об/мин. Обрабатываемая деталь прижимается силой <math>F = 10</math> Н. Какая мощность затрачивается на шлифование, если коэффициент трения колеса о деталь <math>f = 0,25</math>?</p> 	6,2 Вт	1
	12,5 Вт	2
	24,9 Вт	3
	62,4 Вт	4
<p>5. Вычислить КПД механизма лебедки по условию вопроса 3, если известна мощность электродвигателя лебедки <math>P = 2,5</math> кВт.</p>	0,5	1
	0,75	2
	0,8	3
	0,9	4

## Раздел 2. Сопротивление материалов

### Основные положения

#### Тестовое задание

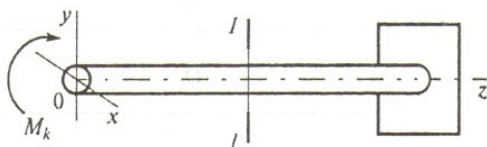
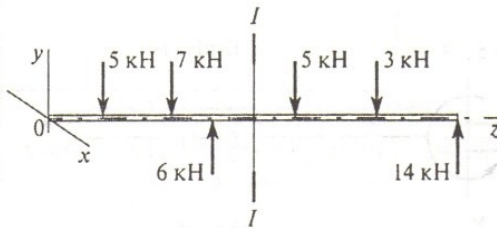
#### ТЕХНИЧЕСКАЯ МЕХАНИКА. СОПРОТИВЛЕНИЕ МАТЕРИАЛОВ

Основные положения, метод сечений, напряжения

Тема 2.1

Вариант 1

Вопросы	Ответы	Код
1. Прямой брус нагружается внешней силой $F$ . После снятия нагрузки его форма и размеры полностью восстанавливаются. Какие деформации имели место в данном случае?	Незначительные	1
	Пластические	2
	Упругие	3
	Остаточные	4
2. Как называют способность конструкции сопротивляться упругим деформациям?	Прочность	1
	Жесткость	2
	Устойчивость	3
	Выносливость	4
3. По какому из уравнений, пользуясь методом сечений, можно определить продольную силу в сечении?	$Q_x = \sum F_{kx}$	1
	$Q_y = \sum F_{ky}$	2
	$N = \sum F_{kz}$	3
	$M_k = \sum M_z(F_k)$	4
4. Пользуясь методом сечений, определить величину поперечной силы в сечении $I-I$ .	2 кН	1
	4 кН	2
	6 кН	3
	7 кН	4
5. Какие напряжения возникают в поперечном сечении $I-I$ бруса под действием крутящего момента $M_k$ ? $\sigma$ — нормальное напряжение. $\tau$ — касательные напряжения.	$\tau$	1
	$\sigma$	2
	$\tau, \sigma$	3
	$\sqrt{\sigma^2 + \tau^2}$	4





# Растяжение и сжатие

## Тестовое задание

### ТЕХНИЧЕСКАЯ МЕХАНИКА. СОПРОТИВЛЕНИЕ МАТЕРИАЛОВ

#### Растяжение и сжатие 1.

#### Основные механические характеристики

#### Тема 2.2

#### Вариант 1

Вопросы	Ответы	Код
1. Как называется и обозначается напряжение, при котором деформации растут при постоянной нагрузке?	Предел прочности, $\sigma_B$	1
	Предел текучести, $\sigma_T$	2
	Допускаемое напряжение, $[\sigma]$	3
	Предел пропорциональности, $\sigma_{пц}$	4
2. Определить допускаемое напряжение, если: $F_{пц} = 1,6$ кН; $F_T = 2$ кН; $F_{max} = 5,0$ кН. запас прочности $s = 2$ площадь поперечного сечения $A = 40$ мм <sup>2</sup> .	25 МПа	1
	20 МПа	2
	50 МПа	3
	62,5 МПа	4
3. Определить максимальное удлинение в момент разрыва, если: начальная длина образца 200 мм, а длина в момент разрыва 240 мм.	20%	1
	17%	2
	0,25%	3
	12%	4
4. Выбрать основные характеристики прочности материала	$\sigma_B, \sigma_T$	1
	$\sigma_T, \sigma_{пц}$	2
	$\sigma_{пц}, \sigma_B$	3
	$\delta, \psi$	4
5. Проверить прочность материала, если: максимальное напряжение в сечении $\sigma = 240$ МПа $\sigma_{пц} = 380$ МПа; $\sigma_T = 400$ МПа; $\sigma_B = 640$ МПа; запас прочности $s = 1,5$ .	$\sigma < [\sigma]$	1
	$\sigma = [\sigma]$	2
	$\sigma > [\sigma]$	3
	Данных недостаточно	4

# Практические расчеты на срез и смятие

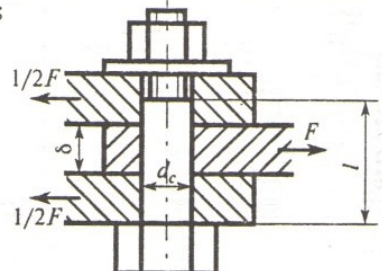
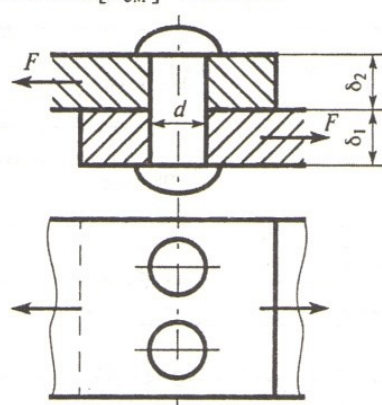
## Тестовое задание

### ТЕХНИЧЕСКАЯ МЕХАНИКА. СОПРОТИВЛЕНИЕ МАТЕРИАЛОВ

Практические расчеты на срез и смятие

Тема 2.3

Вариант 1

Вопросы	Ответы	Код
<p>1. Листы соединены болтом, поставленным без зазора. Соединение нагружено растягивающей силой <math>F = 50,4</math> кН. Рассчитать величину площади среза болта, если <math>d_c = 21</math> мм; <math>l = 45</math> мм; <math>\delta = 20</math> мм.</p> 	629 мм <sup>2</sup>	1
	346 мм <sup>2</sup>	2
	66 мм <sup>2</sup>	3
	420 мм <sup>2</sup>	4
<p>2. Выбрать формулу для расчета напряжения сдвига в поперечном сечении болта (рисунок к вопросу 1).</p>	$\sigma = \frac{N}{A}$	1
	$\tau = \frac{Q}{A}$	2
	$\tau = \frac{M_z}{W_p}$	3
	$\sigma = \frac{Q}{A}$	4
<p>3. Рассчитать площадь смятия внутреннего листа соединения (рисунок к вопросу 1), нагруженного растягивающей силой.</p>	346 мм <sup>2</sup>	1
	420 мм <sup>2</sup>	2
	525 мм <sup>2</sup>	3
	840 мм <sup>2</sup>	4
<p>4. Проверить прочность на смятие внутреннего листа соединения (рисунок к вопросу 1), если допустимое напряжение смятия материала листа — 120 МПа. Остальные данные для расчета — в вопросе 1.</p>	$\sigma_{см} < [\sigma_{см}]$	1
	$\sigma_{см} > [\sigma_{см}]$	2
	$\sigma_{см} = [\sigma_{см}]$	3
	Для ответа данных недостаточно	4
<p>5. Из расчета заклепок на срез определить допустимую нагрузку на соединение. <math>d = 16</math> мм; <math>\delta_1 = 18</math> мм; <math>\delta_2 = 20</math> мм; <math>[\tau_{ср}] = 100</math> МПа; <math>[\sigma_{см}] = 240</math> МПа.</p> 	20,1 кН	1
	40,2 кН	2
	28,8 кН	3
	61,1 кН	4



# Геометрические характеристики плоских сечений

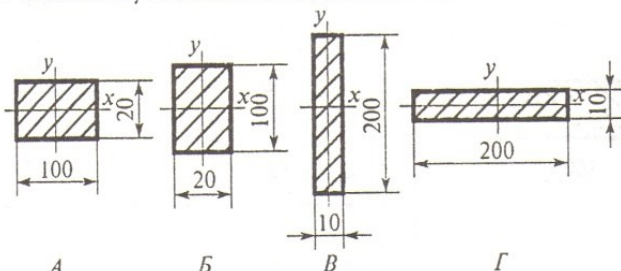
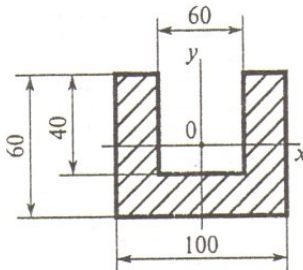
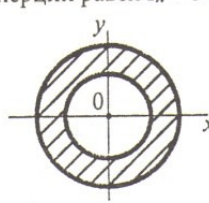
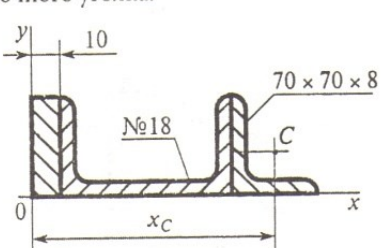
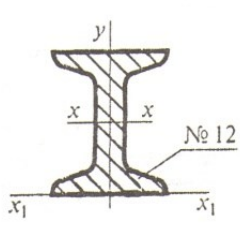
## Тестовое задание

### ТЕХНИЧЕСКАЯ МЕХАНИКА. СОПРОТИВЛЕНИЕ МАТЕРИАЛОВ

Геометрические характеристики плоских сечений

Тема 2.4

Вариант 1

Вопросы	Ответы	Код
<p>1. В каком случае значение <math>I_x</math> минимально?</p>  <p style="text-align: center;">A                  B                  C                  D</p>	<p>A</p> <p>B</p> <p>B</p> <p>Г</p>	<p>1</p> <p>2</p> <p>3</p> <p>4</p>
<p>2. Рассчитать момент инерции сечения относительно оси <math>y</math>.</p> 	<p><math>428 \cdot 10^4 \text{ мм}^4</math></p> <p><math>572 \cdot 10^4 \text{ мм}^4</math></p> <p><math>214 \cdot 10^4 \text{ мм}^4</math></p> <p><math>286 \cdot 10^2 \text{ мм}^4</math></p>	<p>1</p> <p>2</p> <p>3</p> <p>4</p>
<p>3. Определить полярный момент инерции кольца, если осевой момент инерции равен <math>I_x = 6 \text{ см}^4</math>.</p> 	<p><math>3 \text{ см}^4</math></p> <p><math>6 \text{ см}^4</math></p> <p><math>12 \text{ см}^4</math></p> <p><math>18 \text{ см}^4</math></p>	<p>1</p> <p>2</p> <p>3</p> <p>4</p>
<p>4. Определить координату <math>x_c</math> центра тяжести равнополочного уголка.</p> 	<p>260 мм</p> <p>198 мм</p> <p>158,2 мм</p> <p>210,2 мм</p>	<p>1</p> <p>2</p> <p>3</p> <p>4</p>
<p>5. Рассчитать осевой момент инерции двутавра относительно оси, проходящей через основание.</p> 	<p><math>350 \text{ см}^4</math></p> <p><math>879,2 \text{ см}^4</math></p> <p><math>438,2 \text{ см}^4</math></p> <p><math>1317,2 \text{ см}^4</math></p>	<p>1</p> <p>2</p> <p>3</p> <p>4</p>

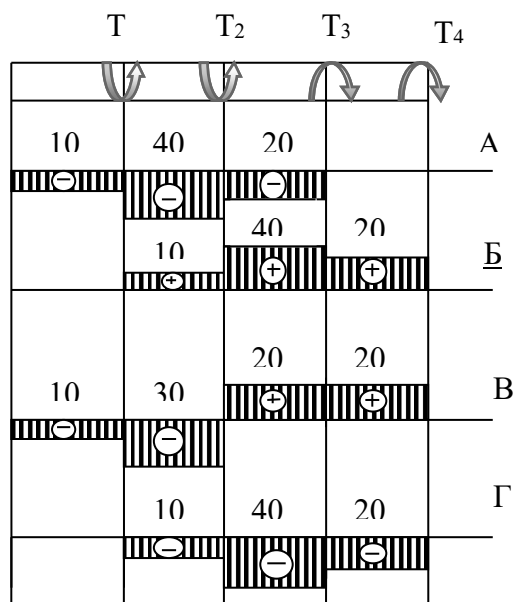
## Кручение

### Тестовое задание

#### 1. Какой вид деформации называется кручением?

- а) Это такой вид деформации, при котором в поперечном сечении возникает внутренний силовой фактор – крутящий момент.
- б) Это такой вид деформации, при котором на гранях элемента возникают касательные напряжения.
- в) Это такой вид деформации, при котором в поперечном сечении возникает внутренний силовой фактор – продольная сила.
- г) Это такой вид деформации, при котором в поперечном сечении возникает внутренний силовой фактор – поперечная сила

#### 2. На рисунке изображен брус, нагруженный четырьмя моментами $T_1=10 \text{ кН} \cdot \text{м}$ ; $T_2=30 \text{ кН} \cdot \text{м}$ ; $T_3=20 \text{ кН} \cdot \text{м}$ ; $T_4=20 \text{ кН} \cdot \text{м}$ . В каком случае правильно построена эпюра крутящих моментов?



#### 3. Какого допущения не существует в теории кручения бруса?

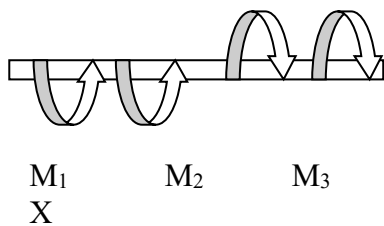
- а) Поперечные сечения бруса, плоские и нормальные к его оси до деформации, остаются плоскими и нормальными к оси и при деформации.
- б) Поперечное сечение остается круглым, радиусы не меняют своей длины и не искривляются.
- в) Материал бруса при деформации следует закону Гука.
- г) Материал однороден и изотропен.

#### 4. Что называется крутящим моментом?

- а) Произведение силы, действующей на тело, на квадрат площади сечения.
- б) Момент касательных сил, возникающих в поперечном сечении.
- в) Произведение силы на плечо.

г) Произведение массы тела на квадрат расстояния по оси кручения.

5. Если  $M_1 = 5 \text{ кН} \cdot \text{м}$ ;  $M_2 = 10 \text{ кН} \cdot \text{м}$ ;  $M_3 = 20 \text{ кН} \cdot \text{м}$ , то чему равен момент  $X$  ?



- а)  $- 5 \text{ кН} \cdot \text{м}$
- б)  $10 \text{ кН} \cdot \text{м}$
- в)  $- 15 \text{ кН} \cdot \text{м}$
- г)  $20 \text{ кН} \cdot \text{м}$

6. Что такое чистый сдвиг?

- а) Это такой вид деформации, при котором возникают только касательные напряжения на противоположных гранях выделенного элемента, равные по модулю и противоположные по знаку.
- б) Это такой вид деформации, при котором в поперечном сечении возникает только один силовой фактор - касательные напряжения.
- в) Это такой вид деформации, при котором в поперечном сечении возникают только поперечные силы.
- г) Это такой вид деформации, при котором в поперечном сечении возникает только один силовой фактор – продольная сила.

7. Какая формула является законом Гука при сдвиге?

- а)  $\tau = G \cdot \gamma$
- б)  $\sigma = E \cdot \varepsilon$
- в)  $F = -k \cdot \Delta x$
- г)  $E = \frac{k \cdot x^2}{2}$

8. Рассчитайте значение касательного напряжения для бруса круглого сечения, у которого полярный момент сопротивления  $W_p = 81,7 \text{ см}^2$ , а крутящий момент равен  $M_k = 3,8 \text{ кН} \cdot \text{м}$

- а)  $0,046 \text{ Па}$
- б)  $21,5 \text{ Па}$
- в)  $21,5 \cdot 10^{-9} \text{ Па}$
- г)  $46 \text{ МПа}$

**Изгиб**

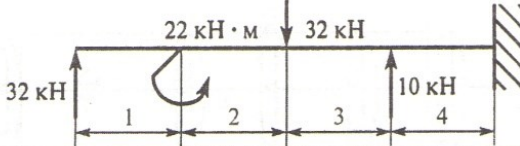
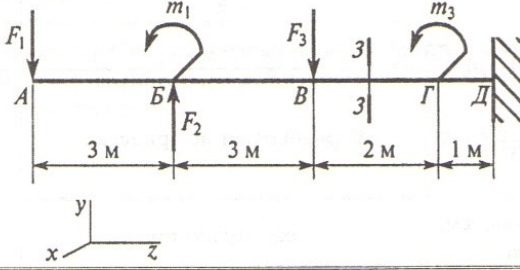
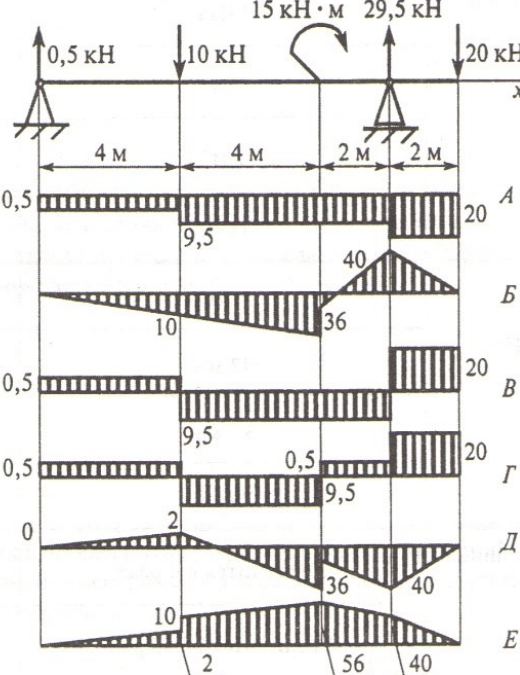
Тестовое задание

## ТЕХНИЧЕСКАЯ МЕХАНИКА. СОПРОТИВЛЕНИЕ МАТЕРИАЛОВ

**Изгиб 1. Определение внутренних силовых факторов (сосредоточенная нагрузка)**

Тема 2.5

Вариант 1

Вопросы	Ответы	Код
<p>1. Выбрать участок чистого изгиба.</p> 	<p>1-й участок</p> <p>2-й участок</p> <p>3-й участок</p> <p>4-й участок</p>	<p>1</p> <p>2</p> <p>3</p> <p>4</p>
<p>2. Выбрать формулу для расчета изгибающего момента в сечении 3-3.</p> 	<p><math>F_1 z_3 - m_1 + F_2 (z_3 - 3) - F_3</math></p> <p><math>-F_1 z_3 - m_1 - F_2 (z_3 - 3) - F_3 (z_3 - 6)</math></p> <p><math>F_1 z_3 + m_1 + F_2 (z_3 - 3) - F_3</math></p> <p><math>-F_1 z_3 - m_1 + F_2 (z_3 - 3) - F_3 (z_3 - 6)</math></p>	<p>1</p> <p>2</p> <p>3</p> <p>4</p>
<p>3. Определить величину изгибающего момента в точке Г слева (схема к вопросу 2), если  <math>F_1 = 10 \text{ кН}</math>; <math>F_2 = 20 \text{ кН}</math>; <math>F_3 = 28 \text{ кН}</math>;  <math>m_1 = 18 \text{ кН} \cdot \text{м}</math>; <math>m_2 = 36 \text{ кН} \cdot \text{м}</math>; <math>m_3 = 5 \text{ кН} \cdot \text{м}</math>.</p>	<p>54 кН · м</p> <p>98 кН · м</p> <p>62 кН · м</p> <p>90 кН · м</p>	<p>1</p> <p>2</p> <p>3</p> <p>4</p>
<p>4. Из представленных на схеме эпюр выбрать эпюру поперечной силы для изображенной балки.</p> 	<p>A</p> <p>B</p> <p>B</p> <p>Г</p> <p>Г</p>	<p>1</p> <p>2</p> <p>3</p> <p>4</p>
<p>5. Из представленных в вопросе 4 эпюр выбрать эпюру изгибающих моментов для балки.</p>	<p>B</p> <p>B</p> <p>Д</p> <p>E</p>	<p>1</p> <p>2</p> <p>3</p> <p>4</p>

### **Раздел 3. Детали машин.**

#### **Основные положения**

##### Устный опрос по вопросам

1. Перечислите и прокомментируйте основные требования к деталям машин.
2. Основные виды материалов, применяемых при изготовлении деталей машин. Их характеристики и области применения.
3. Основные определения деталей машин.

#### **Общие сведения о передачах Основные положения**

##### Тестовое задание



Вопросы	Ответы	Код
<p>1. Среди представленных на схемах передач выбрать цепную передачу и определить ее передаточное число, если <math>z_1 = 18</math>; <math>z_2 = 72</math>; <math>z_3 = 17</math>; <math>z_4 = 60</math>; <math>z_5 = 1</math>; <math>z_6 = 36</math>; <math>z_7 = 35</math>; <math>z_8 = 88</math></p>	Передача 1—2; 4	1
	Передача 3—4; 3,53	2
	Передача 5—6; 2,5	3
	Передача 7—8; 2,5	4
<p>2. Определить момент на ведущем валу изображенной передачи, если мощность на выходе из передачи 6,6 кВт; скорость на входе и выходе 60 и 15 рад/с соответственно; КПД = 0,96</p>	440 Н · м	1
	110 Н · м	2
	1760 Н · м	3
	115 Н · м	4
<p>3. Определить передаточное отношение второй ступени двухступенчатой передачи, если <math>\omega_{вх} = 155</math> рад/с; <math>\omega_{вых} = 20,5</math> рад/с; <math>z_1 = 18</math>; <math>z_2 = 54</math></p>	7,51	1
	3	2
	2,52	3
	5,5	4
<p>4. Определить требуемую мощность электродвигателя, если мощность на выходе из передачи 12,5 кВт; КПД ременной передачи 0,96; КПД червячного редуктора 0,82</p>	12 кВт	1
	9,84 кВт	2
	15,24 кВт	3
	15,88 кВт	4
<p>5. Как изменится мощность на выходном валу передачи (см. рисунок к заданию 3), если число зубьев второго колеса <math>z_2</math> увеличится в 2 раза?</p>	Увеличится в 2 раза	1
	Уменьшится в 2 раза	2
	Не изменится	3
	Увеличится в 4 раза	4

## **Фрикционные и ременные передачи**

### Тестовое задание

**1) Какая ременная передача имеет больший КПД?**

- a) Плоскоременная;
- b) Клиноременная;
- c) С натяжным роликом.

**2) Какие плоские ремни наиболее часто применяют в машинах?**

- a) Кожаные;
- b) Прорезиненные;
- c) Шерстяные.

**3) Какая ветвь открытой ременной передачи испытывает при работе большее напряжение?**

- a) Ведущая;
- b) Ведомая.

**4) От чего зависит усталостное разрушение ремня?**

- a) От его буксования;
- b) От его перегрева;
- c) От его циклического изгиба при огибании шкива.

**5) Как классифицировать фрикционные передачи по принципу передачи движения и способу соединения ведущего и ведомого звеньев?**

- a) Зацеплением;
- b) Трением с непосредственным контактом;
- c) Передача с промежуточным звеном.

## **Зубчатые и цепные передачи**

### Тест по разделу «Зубчатые передачи»

1 вариант

**1. Применяются ли (как правило) в общем машиностроении для изготовления зубчатых колес бронза, латунь?**

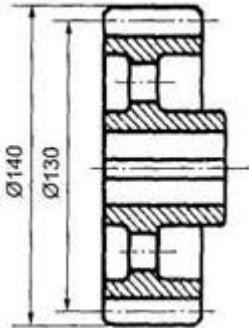
- 1. Да
- 2. Нет

**2. Что называется корригированием?**

- 1. Дополнительная обработка поверхности зуба с целью улучшения зацепления по профилю зуба


2. Улучшение свойств зацеплений путем очерчивания рабочего профиля зубьев различными участками эвольвенты той же основной окружности
3. Способ, применяемый для увеличения долговечности зубчатых колес при изнашивании и заедании

**3. Как называется окружность (см. рис.), диаметр которой  $D = 140$  мм?**



1. Начальная окружность
2. Окружность вершин зубьев
3. Делительная окружность
4. Окружность впадин

**4. Какой профиль имеют зубья передачи, показанной на рисунке?**



1. Эвольвентный
2. Циклоидальный
3. Зацепление Новикова
4. Эти профили в машиностроении не используются

**5. Какой угол зацепления принят для стандартных зубчатых колес, нарезанных без смещения**

- 1) 15
- 2) 20
- 3) 25
- 4) Любой

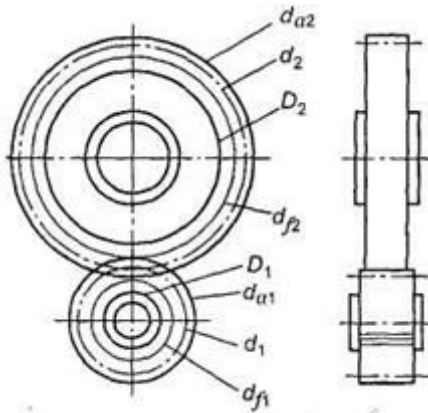
**6. Рассчитать диаметр вершин зубьев (мм) ведомого колеса прямозубой передачи, если  $z_1 = 20$ ;  $z_2 = 50$ ;  $m = 4$  мм**

- 1) 88



- 2) 208
- 3) 80
- 4) 200
- 5) 190

7. По какой окружности (см. рис.) обычно измеряют шаг зубьев

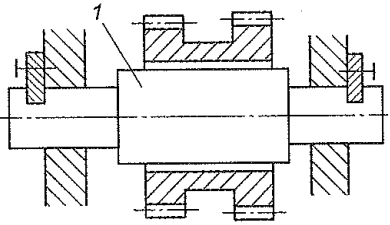
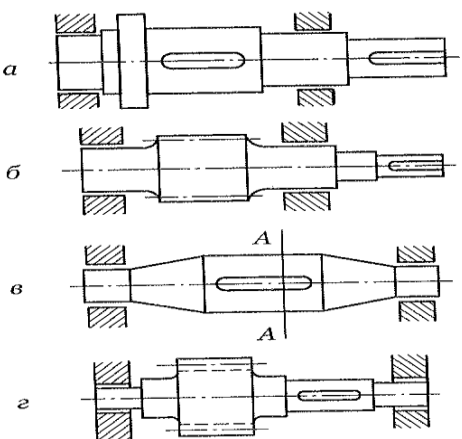


- 1.  $d_{a1}$
- 2.  $d_2$
- 3.  $D_2$
- 4.  $d_{a2}$
- 5.  $d_1$

**Валы и оси. Муфты**

Тестовое задание

Вопросы	Ответы	Код
1. Как называется элемент деталей 1 	Буртик	1
	Шейка	2
	Шпоночный паз	3
	Галтель	4
2. Для чего используют выделенный цветом элемент конструкции вала? 	Для осевой фиксации колеса	1
	Для центрирования колеса на валу	2
	Для удобства сборки	3
	Для передачи вращающего момента от вала на колесо или наоборот	4
3. Выбрать формулу для расчета на прочность детали 1	$\tau = \frac{M_K}{W_P} \leq [\tau_K]$	1

	$\tau = \frac{Q}{A} \leq [\tau]$	2
	$\sigma = \frac{M_{и}}{W_{и}} \leq \sigma_{и}$	3
	$\sigma = \frac{N}{A} \leq [\sigma]$	4
<p>4. Среди изображенных конструкций определите ось</p> 	а	1
	б	2
	в	3
	г	4
<p>5. Указать основной критерий работоспособности валов</p>	Статическая прочность при изгибе	1
	Сопротивление усталости	2
	Статическая прочность при совместном действии $M_{и}$ и $M_{к}$	3
	Устойчивость	4

## Соединения деталей машин

### Тестовое задание

Тест по теме «Разъемные соединения»

#### 1. Угол профиля метрической резьбы.....

- 1)  $20^{\circ}$
- 2)  $30^{\circ}$
- 3)  $45^{\circ}$
- 4)  $60^{\circ}$

#### 2. Для какой резьбы угол между гранями витка равен нулю?

1. Метрической
2. Трапецеидальной
3. Прямоугольной
4. Упорной

#### 3. Какие резьбы относятся к крепежным?

1. Метрическая
2. Упорная

3. Прямоугольная

4. Трапецеидальная

**4. Для какой резьбы коэффициент рабочей высоты профиля равен 0,5?**

1. Упорной

2. Трапецеидальной

3. Треугольной

4. Прямоугольной

**5. Какая деформация является определяющей при расчете резьбы на прочность?**

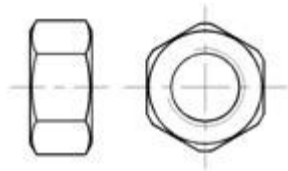
1. Растяжение и изгиб

2. Растяжение и срез

3. Срез и смятие

4. Смятие и изгиб

**6. Как называется деталь, показанная на рисунке?**



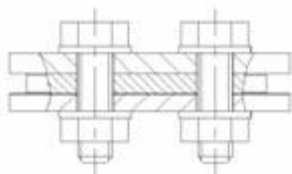
1. Болт

2. Винт

3. Шпилька

4. Гайка

**7. Как называется соединение, показанное на рисунке?**



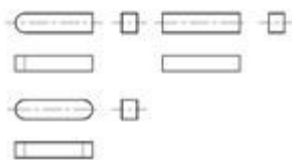
1. Болтовое

2. Резьбовое

3. Разъемное

4. Винтовое

**8. Как называются детали, показанные на рисунке?**



1. Шпонки
2. Шлицы
3. Штифты
4. Шпонки призматические

**9. Что называется шагом резьбы?**

1. Расстояние между двумя одноименными точками резьбы одной и той же винтовой линии
2. Расстояние между двумя одноименными точками двух рядом расположенных витков резьбы

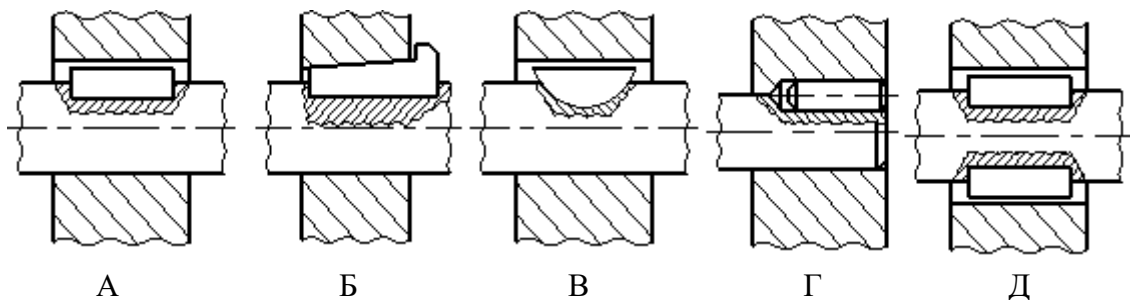
**10. Наибольшие силы трения возникают в ..... резьбах.**

- 1) трапецеидальных
- 2) треугольных
- 3) прямоугольных

**11. Шпоночное соединение предназначено для передачи .... между валом и ступицей.**

- 1) растягивающих сил
- 2) радиальных сил
- 3) изгибающего момента
- 4) вращающего момента

**12. Соединение ..... шпонкой изображено на рисунке .....**



- 1) сегментной
- 2) призматической
- 3) цилиндрической
- 4) клиновой

**6. КОНТРОЛЬНО-ОЦЕНОЧНЫЕ СРЕДСТВА ДЛЯ  
ПРОМЕЖУТОЧНОЙ АТТЕСТАЦИИ**

**Назначение:**

КОС предназначен для контроля и оценки результатов освоения учебной дисциплины «Техническая механика» по специальности 23.02.01 Организация перевозок и управление на транспорте (автомобильном).

## ПЕРЕЧЕНЬ

теоретических вопросов для проведения промежуточной аттестации  
по дисциплине Техническая механика  
для студентов специальности  
23.02.01 Организация перевозок и управление на транспорте  
(автомобильном)

### РАЗДЕЛ: ТЕОРЕТИЧЕСКАЯ МЕХАНИКА

1. Основные понятия и определения статики: Механическое движение. Равновесие.
2. Основные понятия и определения статики: Материальная точка. Абсолютно твердые и деформируемые тела
3. Основные понятия и определения статики:  
-Сила-вектор. Система сил. Эквивалентность сил.
4. Аксиомы статики
- 5.Связи и их реакции
- 6.Геометрический метод сложения сил, приложенных в одной точке.
- 7.Проекция силы на ось. Проекция векторной суммы на ось.
- 8.Аналитическое определение значения и направления равнодействующей плоской системы сходящихся сил (метод проекций).
- 9.Уравнения равновесия плоской системы сходящихся сил
- 10.Пара сил и ее действие на тело. Эквивалентность пар.
- 11.Сложение и равновесие пар сил на плоскости.
- 12.Момент сил относительно точки и оси.
- 13.СИСТЕМА ПРОИЗВОЛЬНО РАСПОЛОЖЕННЫХ СИЛ: Приведение силы к точке.
- 14.СИСТЕМА ПРОИЗВОЛЬНО РАСПОЛОЖЕННЫХ СИЛ: Приведение плоской системы сил к данной точке.
- 15.Теорема о моменте равнодействующей (теорема Вариньона)
- 16.Уравнения равновесия плоской системы сил.
- 17.Опорные устройства балочных систем.
- 18.Пространственная система сил. Шесть уравнений равновесия пространственной системы сил.

19. Центр тяжести
20. Основные понятия кинематики. Уравнение движения точки.
21. Скорость точки. Ускорение точки
22. Виды движения точки в зависимости от ускорения
23. Аксиомы динамики
24. Работа и мощность
25. Метод кинетостатики для материальной точки

## РАЗДЕЛ 2: СОПРОТИВЛЕНИЕ МАТЕРИАЛОВ

1. Понятие о деформации и упругом теле.
2. Основные допущения и гипотезы (в сопромате)
3. Продольные силы при растяжении и сжатии. Построение эпюр продольных сил.
4. Напряжения в поперечных сечениях растянутого(сжатого) стержня
5. Расчеты на прочность при растяжении и сжатии.
6. Деформация при упругом растяжении и сжатии.
7. Закон Гука.
8. Коэффициент Пуассона
9. Механические испытания материалов.
10. Понятие о срезе и смятии. Условия прочности.
11. КРУЧЕНИЕ: Чистый сдвиг.
12. КРУЧЕНИЕ: Эпюры крутящих моментов.
13. Напряжения и деформации при кручении вала
14. Расчеты на прочность и жесткость при кручении
15. ИЗГИБ: Прямой, косой, чистый изгиб
16. Поперечные силы и изгибающие моменты в сечениях балок
17. Эпюры поперечных сил и изгибающих моментов
18. Нормальные напряжения при изгибе
19. Расчеты на прочность при изгибе
20. Понятие о линейных и угловых перемещениях при изгибе
21. Понятие о сложном деформируемом состоянии
22. Понятие о теориях прочности
23. Понятие о продольном изгибе
24. Расчеты на усталость, усталостное разрушение. Циклы напряжений. Кривая напряжений.
25. Метод сечений в сопромате. Виды деформаций

### РАЗДЕЛ 3: ТЕОРИЯ МАШИН И МЕХАНИЗМОВ (ДЕТАЛИ МАШИН)

- 1.Классификация машин. Кинематические пары и цепи.
- 2.Основные требования к машинам и деталям машин
- 3.Краткие сведения о стандартизации и взаимозаменяемости деталей машин
- 4.Виды соединений. Разъемные и неразъемные соединения
- 5.Виды передач в деталях машин и их назначение
- 6.Виды зубчатых передач. Передаточное отношение.
- 7.Элементы теории зубчатого зацепления
- 8.Косозубые передачи. Достоинства и недостатки, область применения
- 9.Редукторы. Виды. Особенности расчётов. Достоинства и недостатки, область применения.
- 10.Ременные передачи. Виды. Особенности расчётов, область применения.
- 11.Клиноременные передачи. Виды. Особенности расчётов. Достоинства и недостатки, область применения.
- 12.Цепные передачи. Виды. Особенности расчётов, достоинства и недостатки, область применения.
- 13.Вариаторы. Виды. Особенности расчётов. Достоинства и недостатки, область применения.
- 14.Валы и оси. Вращательное движение. Виды. Особенности расчётов. Достоинства и недостатки, область применения
- 15.Шпоночные соединения. Подбор шпонок. Особенности расчётов, область применения.
- 16.Передача винт-гайка. Общие сведения о винтовых механизмах. Силовые соотношения и КПД винтовой пары.
- 17.Понятие о расчете передачи на износостойкость. Основные параметры и расчетные коэффициенты
- 18.Червячные передачи. Общие сведения о червячных передачах. Достоинства и недостатки, область применения. Материалы червяков и червячных колес. Геометрические соотношения и силы, действующие в зацеплении. КПД червячной передачи.
- 19.Храповые механизмы.
- 20.Пошипники качения, подшипники качения. Область применения, достоинства и недостатки. Выбор подшипников качения.
- 21.Муфты. Виды муфт. Область применения.
- 22.Краткие сведения о методах изготовления зубчатых колес
- 23.Виды разрушения зубьев зубчатых колес

24.Кривошипно-шатунный механизм

25.Кулачковые механизмы.



*Приложение 1. Ключи к контрольно-оценочным средствам для текущего контроля*

**Раздел 1. Статика**

1 - Б	6 - В	11 - Б
2 - Б	7 - В	12 - Г
3 - Г	8 - В	13 - Б
4 - В	9 - А	14 - Г
5 - Г	10 - Г	15 - Б

**Кинематика**

**Тест 1**

1 - В	6 - В
2 - В	7 - В
3 - В	8 - Г
4 - Б	9 - Г
5 - Г	10 - Г

**Тест 2**

1 - А	6 - А
2 - А	7 - В
3 - В	
4 - В	
5 - Б	

**Раздел 2. Динамика**

1 - А	6 - Б	11 - А	16 - Б
2 - Г	7 - В	12 - Г	17 - Б
3 - А	8 - В	13 - В	18 - А
4 - Б	9 - Б	14 - Б	19 - Г
5 - В	10 - Г	15 - Г	20 - А

**Кручение**

1 - А	6 - А
2 - Б	7 - А
3 - Г	8 - Г
4 - Б	
5 - А	

**Раздел 3. Детали машин**

**Валы и оси**

№ п/п	Вариант ответа
1	1
2	4
3	3
4	3
5	2

## Лист изменений и дополнений к комплекту контрольно-оценочных средств

Дополнения и изменения к комплекту КОС на \_\_\_\_\_ учебный год по дисциплине \_\_\_\_\_

В комплект КОС внесены следующие изменения:

---

---

---

---

---

Дополнения и изменения в комплекте КОС обсуждены на заседании ПЦК

\_\_\_\_\_

«\_\_\_\_\_» \_\_\_\_\_ 20\_\_\_\_ г. (протокол № \_\_\_\_\_).

Председатель ПЦК \_\_\_\_\_ / \_\_\_\_\_ /